

KLASA VIII B

Lekcja -

Data: 20.03.2020 r.

Temat: TEST 1

Opracowanie: mgr inż. Krzysztof Janikowski

Rozwiąż zadania.

W tym celu możesz:

- wydrukować TEST 1 i na wydrukowanej kartce nanieść odpowiednie obliczenia
- przepisać zadania na kartkę dopisując rozwiązania.

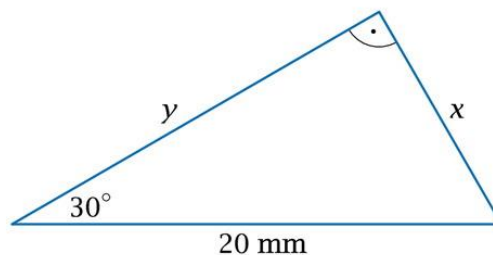
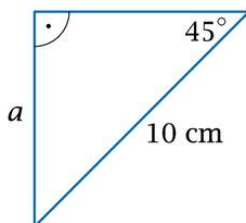
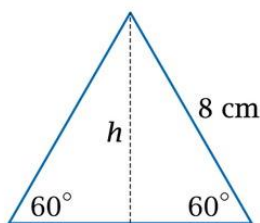
Rozwiązania (skan kartki lub zdjęcie) należy wysłać na adres e-mail: janikowski.krzysztof@sp3.edu.pl

Rozwiązania należy przesłać do 23 marca br. do godz. 12.00

Życzę powodzenia!

ZADANIE 1.

Na rysunkach przedstawiono podstawy ostrosłupów trójkątnych. Każdy z nich ma wysokość 5 cm. Oblicz objętości tych ostrosłupów.



$h =$

$a =$

$x =$ $y =$

$P_p =$

$P_p =$

$P_p =$

$V =$

$V =$

$V =$