

KLASA IVA

Lekcja nr 133

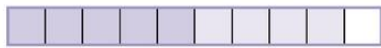
Data: 22.06.2020 r.

Temat: Dodawanie ułamków dziesiętnych - zadania.


Opracowanie: mgr inż. Krzysztof Janikowski

Przepisz (lub wklej) temat do zeszytu oraz rozwiąż poniższe zadania:


1. Korzystając z rysunków, uzupełnij:




$0,5 + 0,4 = \dots\dots\dots$





$0,8 + 0,6 = \dots\dots\dots$



$0,7 + 0,3 = \dots\dots\dots$



$0,9 + 0,3 = \dots\dots\dots$



$1,6 + 0,8 = \dots\dots\dots$

2. Oblicz w pamięci:

a) $0,5 + 0,3 = \dots\dots\dots$

e) $2,5 + 0,5 = \dots\dots\dots$

i) $3,6 + 0,8 = \dots\dots\dots$

b) $0,7 + 0,2 = \dots\dots\dots$

f) $0,8 + 0,4 = \dots\dots\dots$

j) $2,2 + 0,9 = \dots\dots\dots$

c) $0,6 + 0,4 = \dots\dots\dots$

g) $0,7 + 0,5 = \dots\dots\dots$

k) $0,7 + 5,3 = \dots\dots\dots$

d) $1,2 + 0,8 = \dots\dots\dots$

h) $0,9 + 0,6 = \dots\dots\dots$

l) $0,4 + 3,8 = \dots\dots\dots$