

# KLASA VIII B

Lekcja nr 104

Data: 05.05.2020 r.

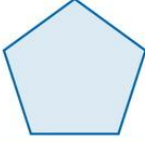
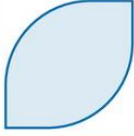
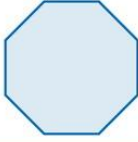


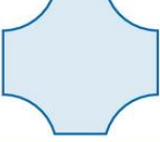
Temat: Środek symetrii figury.

Opracowanie: mgr inż. Krzysztof Janikowski

**Przepisz temat do zeszytu (lub wklej) oraz rozwiąż zadania:**

## ZADANIE 1.

Czy poniższe figury mają środek symetrii? Wpisz TAK lub NIE w polach tabeli.

						
Środek symetrii						

## ZADANIE 2.

Uzupełnij rysunek tak, aby zaznaczony punkt był środkiem symetrii otrzymanej figury.

