

KLASA IVA

Lekcja nr 99

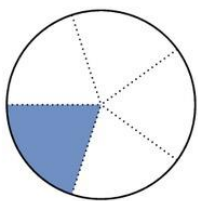
Data: 07.04.2020 r.

Temat: Ułamek jako część całości.

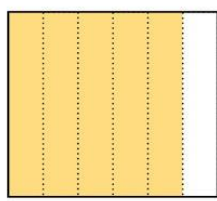
Opracowanie: mgr inż. Krzysztof Janikowski

Przeczytaj i zapoznaj się z poniższą informacją:

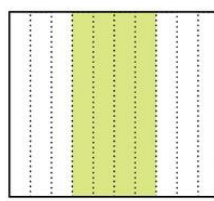
Przyjrzyj się poniższym rysunkom. Zauważ, że każda figura została podzielona na jednakowe części. Pod każdym rysunkiem zapisano, jaki ułamek figury został zamalowany.



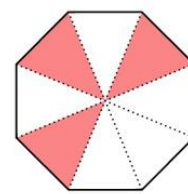
$$\frac{1}{5}$$



$$\frac{5}{6}$$



$$\frac{4}{10}$$



$$\frac{3}{8}$$

Przepisz temat do zeszytu. Zadania należy przepisać (lub wkleić) do zeszytu, a następnie rozwiązać zadania:



W zapisie ułamka wyróżniamy następujące elementy: **licznik**, **mianownik** oraz **kreskę ułamkową**.

ZADANIE 1.

Przerysuj zadanie do zeszytu i za pomocą ułamka zapisz część zamalowanej figury.

